



Knippen en plakken - H21 Oppervlakte

Knip de kaartjes hieronder met de oppervlaktes en omtrekken uit en plak ze onder de juiste figuur op de volgende pagina.

Let op: Onder twee figuren blijft een vakje leeg.

Omtrek
 4π

Omtrek
 $4\pi + 16$

Omtrek
 $4\pi + 8$

Omtrek
 $4\pi + 4$

Omtrek
 6π

Oppervlakte
 $4\pi + 8$

Oppervlakte
 $8\pi - 4$

Oppervlakte
 $8\pi - 16$

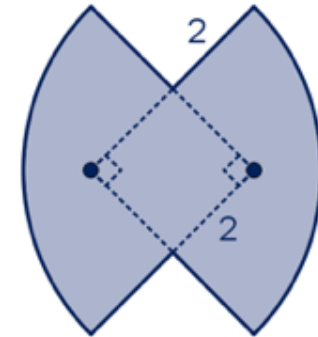
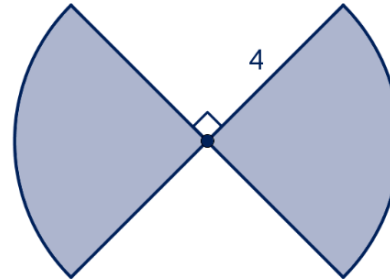
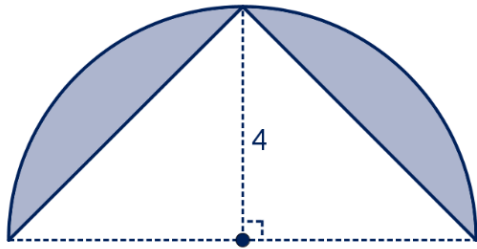
Oppervlakte
 8π

Oppervlakte
 $6\pi + 4$



Knippen en plakken - H21 Oppervlakte

Plak de plaatjes onder de juiste figuur.
 Let op: Onder twee figuren blijft een vakje leeg.



Omtrek

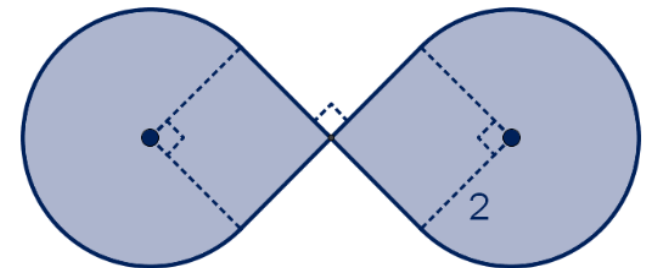
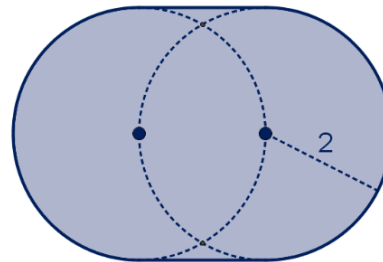
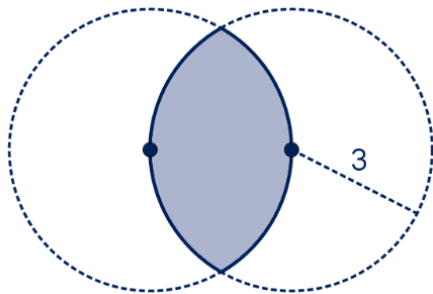
Oppervlakte

Omtrek

Oppervlakte

Omtrek

Oppervlakte



Omtrek

Oppervlakte

Omtrek

Oppervlakte

Omtrek

Oppervlakte